


Wir sind Rechenkünstler!



Name: _____

Wir sind Rechenkünstler 1

Schreibe mit den drei Zahlen jeweils alle vier möglichen Aufgaben in die Kästchen.
Achte auf die Rechenzeichen!

5 2 3

	+		=	
	+		=	
	-		=	
	-		=	

7 3 4

	+		=	
	+		=	
	-		=	
	-		=	

10 6 4

	+		=	
	+		=	
	-		=	
	-		=	



3+5=?

8 1 9

	+		=	
	+		=	
	-		=	
	-		=	

9 4 5

	+		=	
	+		=	
	-		=	
	-		=	

3 8 5

	+		=	
	+		=	
	-		=	
	-		=	

Wir sind Rechenkünstler 2

Schreibe mit den drei Zahlen jeweils alle möglichen Aufgaben in die Kästchen.
Achte auf die Rechenzeichen!

4 2 2


	-		=	
	+		=	
	-		=	
	+		=	

7 2 5

	+		=	
	-		=	
	+		=	
	-		=	

8 6 2

	-		=	
	-		=	
	+		=	
	+		=	



10 7 3

	+		=	
	+		=	
	-		=	
	-		=	

1 3 2

	-		=	
	+		=	
	+		=	
	-		=	

4 5 1

	+		=	
	-		=	
	-		=	
	+		=	

Wir sind Rechenkünstler 3

Schreibe mit den drei Zahlen jeweils alle möglichen Aufgaben in die Kästchen.
Achte auf die Rechenzeichen!


10 1 9

	-		=	
	-		=	
	+		=	
	+		=	

6 1 7

	-		=	
	+		=	
	+		=	
	-		=	

8 2 10



	-		=	
	+		=	
	-		=	
	+		=	

6 3 3

	+		=	
	-		=	
	-		=	
	+		=	

0 4 4

	+		=	
	-		=	
	+		=	
	-		=	

5 5 0

	+		=	
	+		=	
	-		=	
	-		=	

Wir sind Rechenkünstler 4

Schreibe mit den drei Zahlen jeweils alle möglichen Aufgaben in die Kästchen.

Achte auf die Rechenzeichen!

3 5 2

9 1 10

4 5 9

0 2 2

8 3 5

7 5 2

1 4 3

3 10 7

4 8 4

10 5 5

0 10 10

7 1 6

Wir sind Rechenkünstler 5

Ergänze die 3. Zahl und schreibe dann die jeweils möglichen Aufgaben in die Kästchen.
Achte auf die Rechenzeichen!

○ 5 ○ 4

○ 4 ○ 6 ○

○ 4 ○ ○ 3

○ ○ 2 ○ 2

○ 3 ○ ○ 5

○ 7 ○ ○ 2

○ 3 ○ 6 ○

○ ○ 5 ○ 5

○ 2 ○ 8 ○

○ 10 ○ ○ 3


○ 1 ○ 9 ○

○ ○ 3 ○ 7

Wir sind Rechenkünstler 6

Rechne und schreibe jeweils die passenden Umkehraufgaben und Tauschaufgaben hin!

a)	1	+	3	=	4			5	+	3	=	8			10	-	4	=	6
	3	+	1	=	4														
	4	-	1	=	3														
	4	-	3	=	1														
b)	8	-	6	=				4	+	3	=				2	+	5	=	
c)	10	-	5	=				1	+	8	=				7	-	7	=	
d)	0	+	4	=				9	-	6	=				8	+	2	=	
e)	11	+	3	=				15	+	3	=								
f)	12	+	6	=				18	-	4	=								



Wir sind Rechenkünstler 7

1. Rechne und schreibe jeweils die passenden Umkehraufgaben und Tauschaufgaben hin!

a)	1	9	-	8	=					2	0	-	6	=				
b)	1	5	-	4	=					1	4	+	5	=				
c)	1	3	+	4	=					1	2	+	1	=				

2. Welche drei Zahlen gehören jeweils zusammen. Male sie in der gleichen Farbe aus!


5 12 7 6 18 1

10 8 3

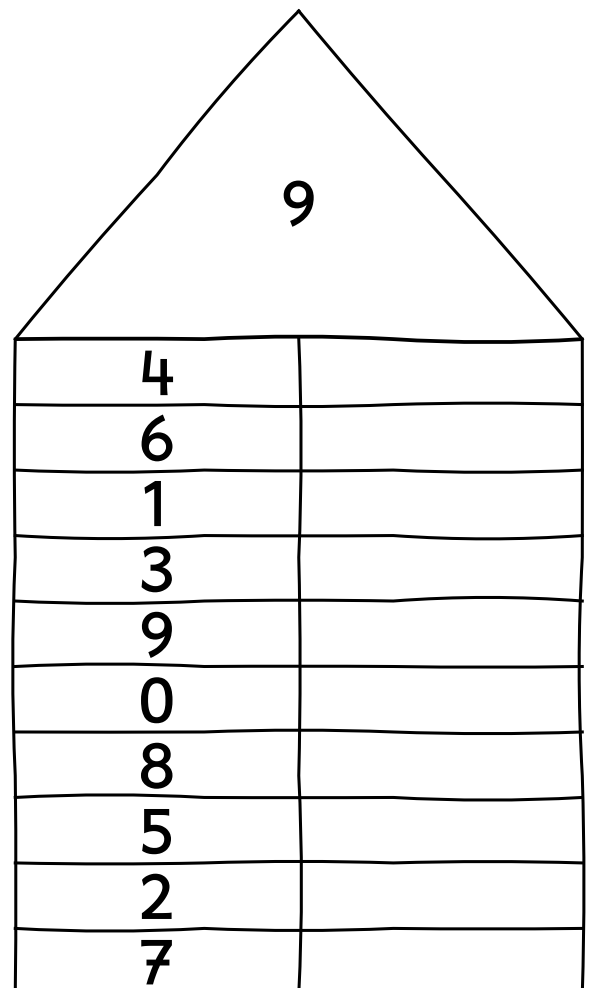
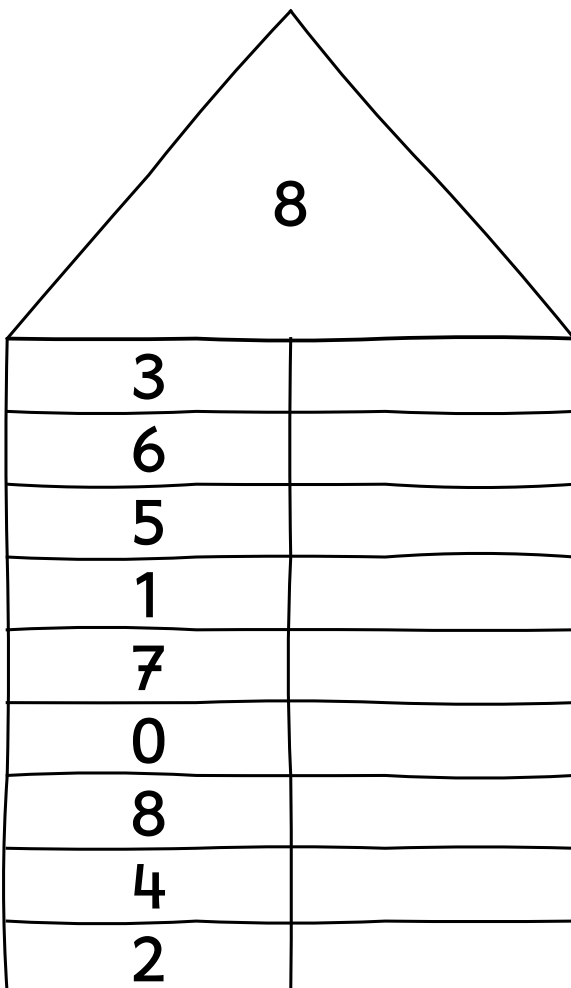
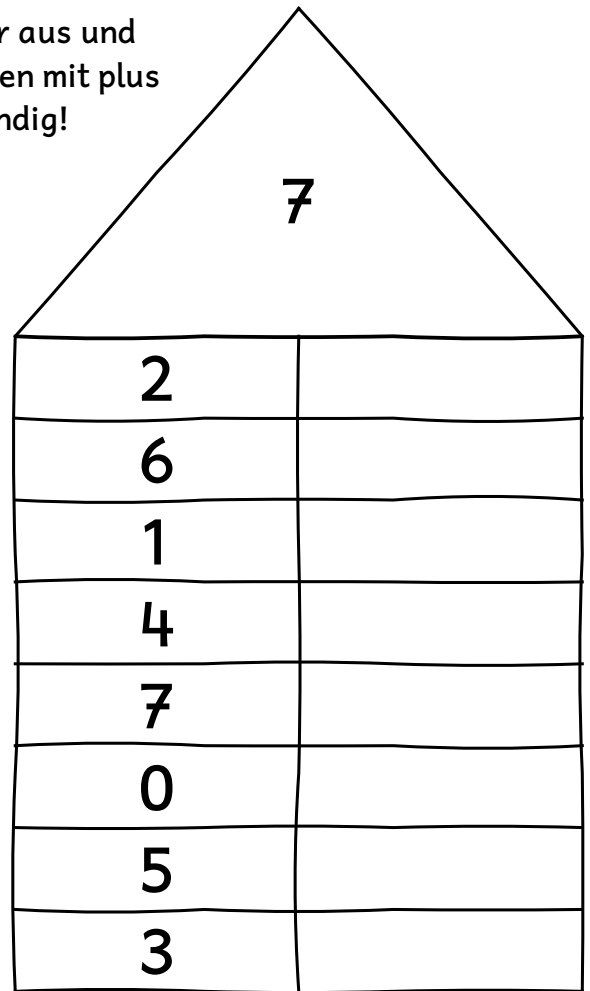
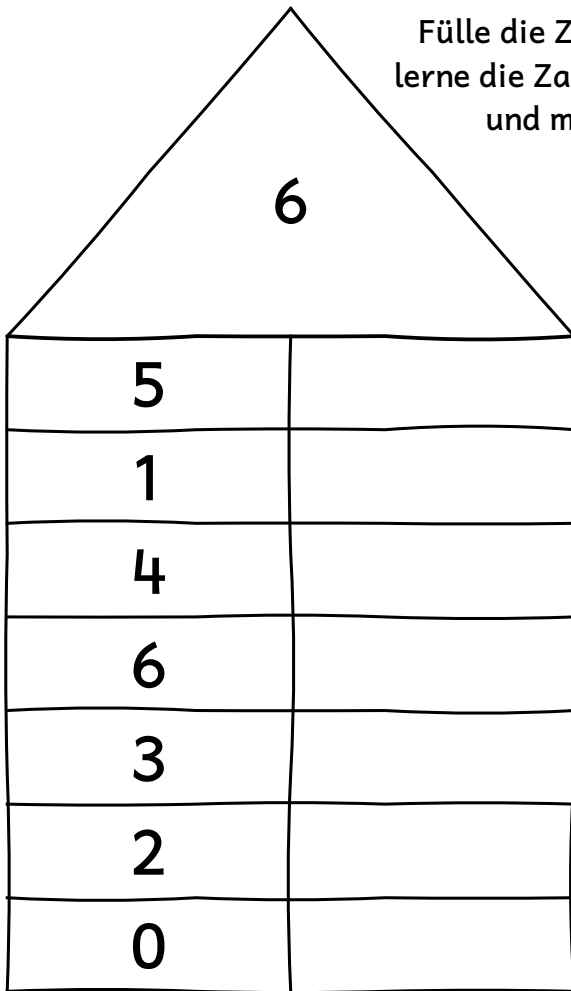
3 7 11

17 5 1 19

20 7









Fülle die Zahlenhäuser aus und lerne die Zahlzerlegungen mit plus und minus auswendig!



Die verliebten Zahlen

mit 10









Wir sind Rechenkünstler 8


1. Rechne und schreibe jeweils die passenden Umkehraufgaben und Tauschaufgaben hin!

a)	1	+	9	=					5	+	5	=					1	0	-	4	=					
b)	1	0	-	2	=					7	+	3	=					2	+	8	=					
c)	1	0	-	0	=					1	0	-	5	=					1	0	-	3	=			
d)	6	+	4	=						0	+	1	0	=					1	0	-	9	=			

2. Schreibe die passenden *verliebten Zahlen mit der 10* in die Herzhälften!



Wir sind Rechenkünstler 9



Die verliebten Zahlen mit 10 sind beim Rechnen besonders wichtig!
 Übe sie hier ganz fleißig! Lerne sie auswendig!

a)	A	u	f	g	a	b	e		T	a	u	s	c	h	a	u	f	g	a	b	e		
		8	+	2	=			>	2	+	8	=											
		5	+	5	=			>															
	1	0	+	0	=			>															
		4	+	6	=			>															
		7	+	3	=			>															
		1	+	9	=			>															
b)	A	u	f	g	a	b	e		U	m	k	e	h	r	a	u	f	g	a	b	e		
		9	+	1	=			>	1	0	-	1	=										
		7	+	3	=			>															
		6	+	4	=			>															
		2	+	8	=			>															
	0	+	1	0	=			>															
		5	+	5	=			>															
c)	7	+	3	=					8	+	2	=											
	5	+	5	=					1	0	-	1	=										
	1	0	-	6	=				0	+	1	0	=										
	1	0	-	2	=				1	0	-	5	=										
		9	+	1	=				1	0	-	7	=										
d)	4	+		=	1	0			1	0	-		=	4				+	3	=	1	0	
	2	+		=	1	0			1	0	-		=	7				+	4	=	1	0	
	3	+		=	1	0			1	0	-		=	8				+	2	=	1	0	
	5	+		=	1	0			1	0	-		=	9				+	1	=	1	0	
	1	+		=	1	0			1	0	-		=	5				+	0	=	1	0	
	1	0	+		=	1	0			1	0	-		=	0				+	5	=	1	0

Das Lied von den verliebten Zahlen

Zur 1 gehört die 9, die kann sich aber freu'n.

Zur 2 gehört die 8, wer hätte das gedacht?

Zur 3 gehört die 7, wo ist sie nur geblieben?

Zur 4 gehört die 6, sie ist g'rad bei der Hex'.

Zur 5 gehört die 5, sie kommt nicht in die Strümpf'.

Zur 6 gehört die 4, glaub's nur, ich sag' es dir.

Zur 7 eine 3, das ist ja Hexerei.

Zur 8 gehört die 2, gleich ist das Lied vorbei.

Zur 9 gehört die 1, pf pf pf pf pf pf.

Pf pf pf pf pf pf, pf pf pf pf pf pf.

