

# Das Hunderterfeld




Dieses Heft gehört

---



**Dieses Hunderterfeld**  
hilft Dir beim **Bearbeiten**  
der **Aufgaben!**


1	2	3	4	5	6	7	8	9	10
11	12	13	14	15	16	17	18	19	20
21	22	23	24	25	26	27	28	29	30
31	32	33	34	35	36	37	38	39	40
41	42	43	44	45	46	47	48	49	50
51	52	53	54	55	56	57	58	59	60
61	62	63	64	65	66	67	68	69	70
71	72	73	74	75	76	77	78	79	80
81	82	83	84	85	86	87	88	89	90
91	92	93	94	95	96	97	98	99	100



Schreibe die fehlenden Zahlen in die Kästchen.


<del>4</del>	11	23	43	48	57	70	72	91	98
--------------	----	----	----	----	----	----	----	----	----

1	2	3	<del>4</del>	5	6	7	8	9	10
	12	13	14	15	16	17	18	19	20
21	22		24	25	26	27	28	29	30
31	32	33	34	35	36	37	38	39	40
41	42		44	45	46	47		49	50
51	52	53	54	55	56		58	59	60
61	62	63	64	65	66	67	68	69	
71		73	74	75	76	77	78	79	80
81	82	83	84	85	86	87	88	89	90
	92	93	94	95	96	97		99	100



Schreibe die fehlenden  
Zahlen in die Kästchen.

1	2	3	4	5	6	7	8	9	
11	12	13	14		16			19	20
	22	23		25	26		28	29	30
31	32	33		35	36	37	38	39	
41	42	43	44	45	46		48		50
51	52				56			59	60
	62			65	66	67	68		
71	72	73	74		76	77			80
81		83	84	85	86	87	88	89	
91	92		94	95	96		98		100



- 1) Schreibe die Zahlen richtig auf.  
2) Male die Felder farbig an.

a) 8 Z 5 E

85

e) 3 Z 1 E

b) 2 Z 6 E

f) 5 Z 7 E

c) 4 Z 3 E

g) 9 Z 4 E









d) 6 Z 2 E

h) 1 Z 9 E

1	2	3	4	5	6	7	8	9	10
11	12	13	14	15	16	17	18	19	20
21	22	23	24	25	26	27	28	29	30
31	32	33	34	35	36	37	38	39	40
41	42	43	44	45	46	47	48	49	50
51	52	53	54	55	56	57	58	59	60
61	62	63	64	65	66	67	68	69	70
71	72	73	74	75	76	77	78	79	80
81	82	83	84	85	86	87	88	89	90
91	92	93	94	95	96	97	98	99	100




Trage die Zahlen, auf denen du mich siehst, in die Stellenwerttafel ein.











1	2	3	4	5	6	7	8	9	10
11	12	13	14	15	16	17	18		20
21	22	23	24	25	26	27	28	29	30
31	32	33		35	36	37	38	39	40
	42	43	44	45	46	47	48	49	50
51	52	53	54	55	56	57	58	59	60
61		63	64	65	66		68	69	70
71	72	73	74	75	76	77	78	79	80
81	82	83	84	85	86		88	89	
91	92	93	94		96	97	98	99	100

Z	E	Zahl
1	9	19

Z	E	Zahl



Welche Zahl ist es?

1		3	4	5	6	7	8	9	10
11	12		14	15	16	17		19	20
21	22	23	24	25	26	27	28	29	
31	32	33	34	35	36	37	38	39	40
41		43	44	45	46	47	48	49	50
51	52		54	55		57	58	59	60
61	62	63	64	65	66	67	68	69	70
71	72	73	74		76	77	78	79	80
81		83	84	85	86	87	88	89	90
91		93	94	95	96	97	98	99	100



=



=



=



=



=



=



=



=



=



=



Male einen grünen Punkt  
in jedes angegebene Zahlenfeld.  
Es entsteht ein schönes Muster!

1	2	3	4	5	6	7	8	9	10
11	12	13	14	15	16	17	18	19	20
21	22	23	24	25	26	27	28	29	30
31	32	33	34	35	36	37	38	39	40
41	42	43	44	45	46	47	48	49	50
51	52	53	54	55	56	57	58	59	60
61	62	63	64	65	66	67	68	69	70
71	72	73	74	75	76	77	78	79	80
81	82	83	84	85	86	87	88	89	90
91	92	93	94	95	96	97	98	99	100

## Zahlenfelder


~~5~~, 6

14, 15, 16, 17

23, 24, 27, 28

32, 33, 38, 39

41, 42, 49

50, 51, 52, 59

60, 62, 63, 68, 69

73, 74, 77, 78

84, 85, 86, 87

95, 96







Aufgepasst:  
Hier ist ein Tier versteckt!












1	2	3	4	5	6	7	8	9	10
11	12	13	14	15	16	17	18	19	20
21	22	<del>23</del>	24	25	26	27	28	29	30
31	32	33	34	35	36	37	38	39	40
41	42	43	44	45	46	47	48	49	50
51	52	53	54	55	56	57	58	59	60
61	62	63	64	65	66	67	68	69	70
71	72	73	74	75	76	77	78	79	80
81	82	83	84	85	86	87	88	89	90
91	92	93	94	95	96	97	98	99	100

Male folgende Zahlenfelder grau an!

13 14	Es ist ein   _____
22 23 24 25 26	
32 33 34 35 36 37 38	
42 44 45 46 47 48 49	
52 54 55 56 57 58 59	
62 64 65 66 67 68 69	
74 79	
84 89	




Welches Tier  
besuche ich?

 1	2	3	 4	5	6	7	 8	9	10
11	12	13	14	15	16	17	18	19	20
21	22	 23	24	25	26	27	28	29	 30
31	32	33	34	35	 36	37	38	39	40
41	42	 43	44	45	46	47	48	49	50
51	52	53	54	 55	56	57	58	 59	60
61	62	63	64	65	66	67	68	69	70
 71	72	73	74	75	76	77	78	79	80
81	82	83	84	85	86	87	88	89	90
91	92	93	94	95	 96	97	98	99	100





a) 1, 2, 13, 24, 25, 16, 17, 18, 19, 30 \_\_\_\_\_

b) 1, 2, 12, 22, 33, 43 \_\_\_\_\_

c) 1, 2, 3, 4, 15, 26, 37, 47, 57, 56, 55 \_\_\_\_\_







Welchen Weg kann ich nehmen?

	2	3	4	5	6	7	8	9	10
11	12	13	14	15	16	17	18	19	20
21	22	23	24	25	26	27	28	29	30
31	32	33	34	35	36	37	38		40
41	42	43	44	45	46	47	48	49	50
51	52	53		55	56	57	58	59	60
61	62	63	64	65	66	67	68	69	70
71	72	73	74	75	76	77	78	79	80
81	82	83	84	85	86	87	88	89	90
91	92		94	95	96	97	98	99	100

Schreibe die Zahlen auf dem Weg auf:

a) vom  zum  \_\_\_\_\_

b) vom  zum  \_\_\_\_\_

c) vom  zur  \_\_\_\_\_